

Großlandschaften Deutschlands

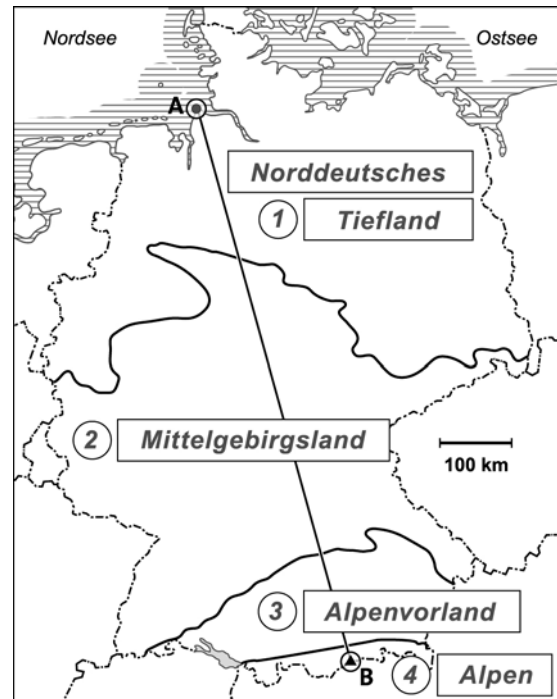
Lösung  

1 Trage in die Karte und Tabelle die Namen und Zahlen der Großlandschaften in Deutschland ein.

1	Norddeutsches Tiefland
2	Mittelgebirgslan
3	Alpenvorland
4	Alpen

2 Gestalte die Karte farbig.

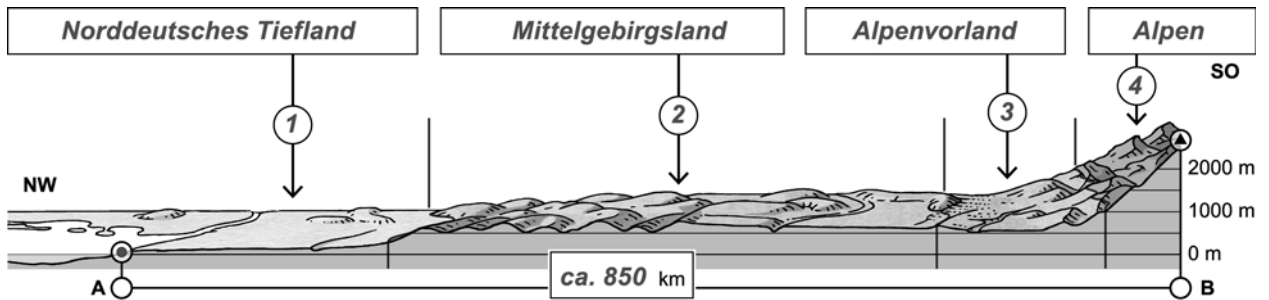
grün	Norddeutsches Tiefland
braun	Mittelgebirgslan
hellbraun	Alpenvorland
dunkelbraun	Alpen



© Grafik: Klett-Archiv (Wolfgang Schaar), Stuttgart


3 Arbeite mit dem Profil:

- Nutze die Maßstabsleiste aus der Karte (Aufgabe 1) und ermittle die Entfernung zwischen A und B. Trage die Entfernung unter dem Profil ein.
- Übertrage die Namen und Zahlen aus der Legende der Karte in die Kästen über dem Profil.



© Grafik: Klett-Archiv (Wolfgang Schaar), Stuttgart

4 Ordne die Fotos den Großlandschaften im Profil zu, indem du sie mit der richtigen Zahl beschriftest.



Name: _____

Klasse: _____

Datum: _____

