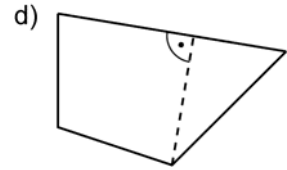
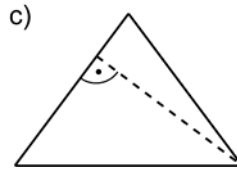
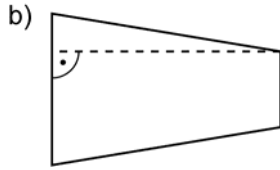
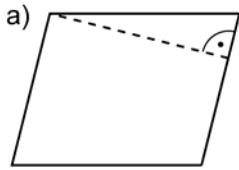


## Trainingsblatt

- **1** Miss den eingezeichneten Abstand.

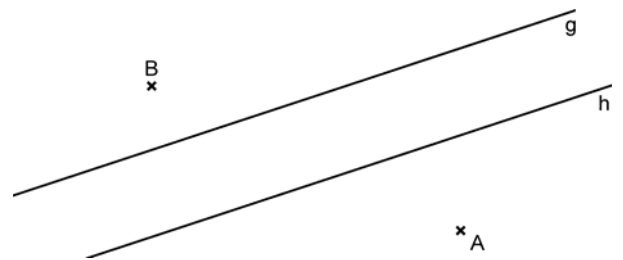


Gemessener Abstand:

\_\_\_\_\_

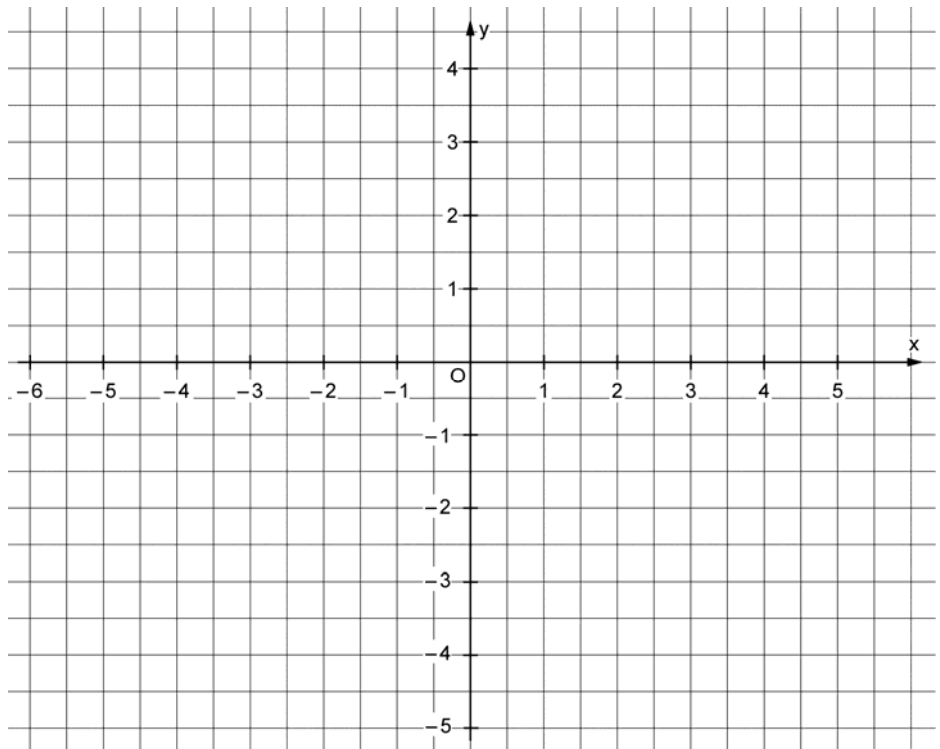
- **2** Miss in der Zeichnung den Abstand. Die Geraden g und h sind parallel.

- a) A und B: \_\_\_\_\_    b) A und g: \_\_\_\_\_  
 c) g und h: \_\_\_\_\_    d) B und h: \_\_\_\_\_



- **3** Zeichne die Punkte A(-4|3), B(3|-1), C(-3|-2), D(4|2), E(-4|1), F(3|-3) und G(0|3) in das Koordinatensystem. Die Gerade m verläuft durch die Punkte A und B, die Gerade n verläuft durch die Punkte C und D und die Gerade p verläuft durch E und F. Miss den Abstand.

- a) A und B  
 \_\_\_\_\_  
 b) m und E  
 \_\_\_\_\_  
 c) n und G  
 \_\_\_\_\_  
 d) m und n  
 \_\_\_\_\_  
 e) m und G  
 \_\_\_\_\_  
 f) B und p  
 \_\_\_\_\_  
 g) C und m  
 \_\_\_\_\_



## Trainingsblatt – Lösungen

- |          |           |           |           |           |
|----------|-----------|-----------|-----------|-----------|
| <b>1</b> | a) 2,4 cm | b) 3 cm   | c) 2,4 cm | d) 1,7 cm |
| <b>2</b> | a) 4,5 cm | b) 2,3 cm | c) 1,1 cm | d) 1,9 cm |
| <b>3</b> | a) 8 cm   | b) 1,7 cm | c) 2,8 cm | d) 0 cm   |
|          | e) 2 cm   | f) 1,7 cm | g) 3,8 cm |           |