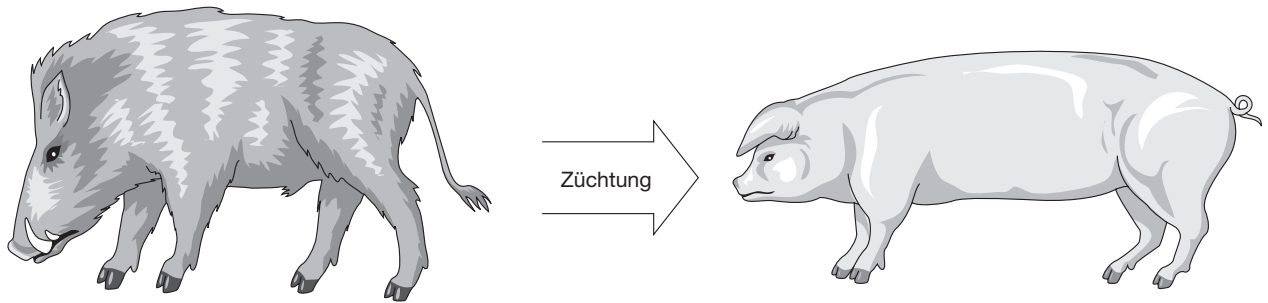


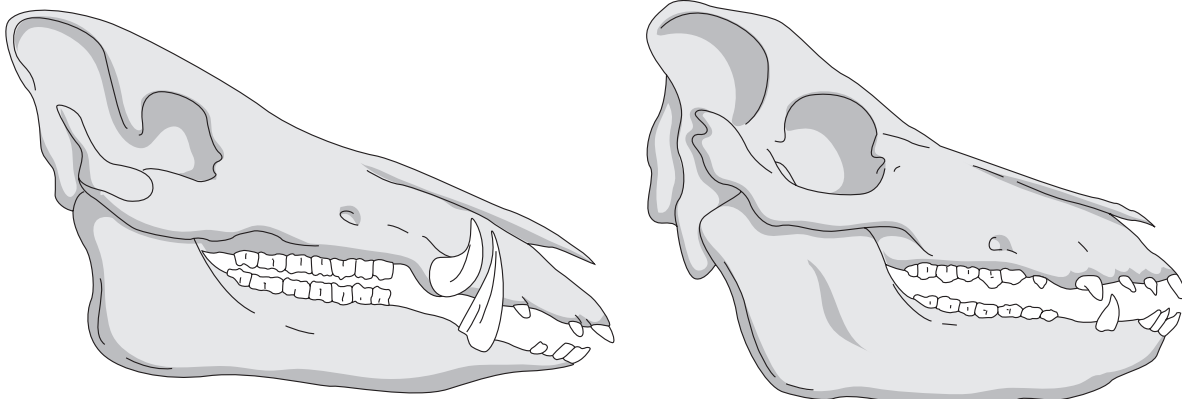
# Vom Wildschwein zum Hausschwein



1 Vergleiche die beiden Zeichnungen. Welche Unterschiede lassen sich feststellen?

	Ohren	
	Haut	
	Beine	
	Körper	
	Schwanz	

2 a Welcher der abgebildeten Schädel gehört zum Hausschwein, welcher zum Wildschwein?



b Zähle drei Veränderungen beim Schädel des Hausschweins auf.

---

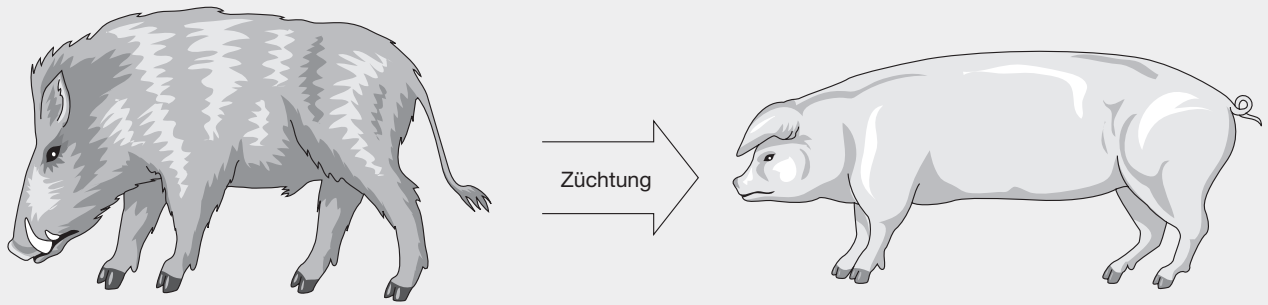


---



---

# Vom Wildschwein zum Hausschwein



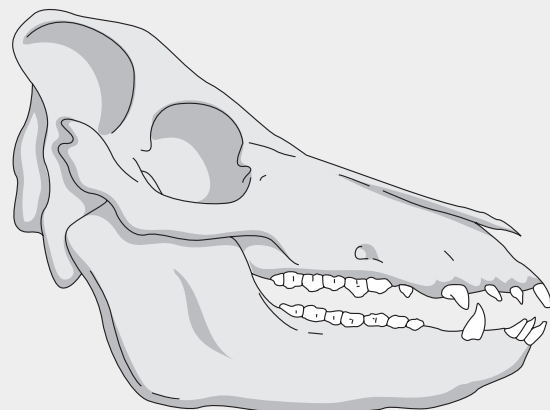
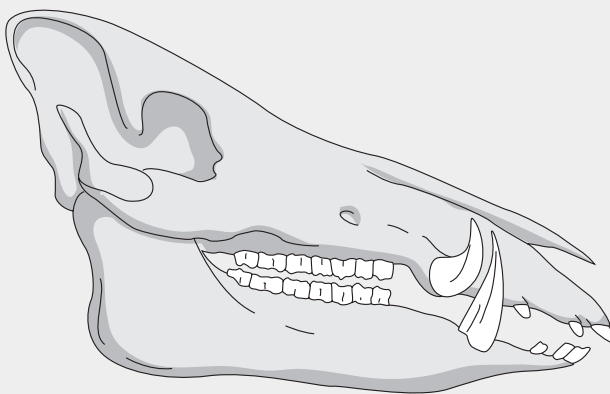
1 Vergleiche die beiden Zeichnungen. Welche Unterschiede lassen sich feststellen?

aufgerichtet	Ohren	schlapp
lange, dunkle Borsten	Haut	fast unbehaart, kurze Borsten
lang und muskulös	Beine	gedrungen, kurz
fast quadratisch	Körper	lang gestreckt
gestreckt	Schwanz	geringelt

2 a Welcher der abgebildeten Schädel gehört zum Hausschwein, welcher zum Wildschwein?

Wildschwein

Hausschwein



b Zähle drei Veränderungen beim Schädel des Hausschweins auf.

kürzerer Schädel

breiterer Kiefer

äußerlich kaum sichtbare Eckzähne