

## Sicherheitseinrichtungen (1)

**A1** In einem naturwissenschaftlichen Fachraum gibt es viele Sicherheitseinrichtungen und Schutzausrüstungen.

a) Ordne die folgenden Bezeichnungen den Bildern richtig zu.  
*Feuerlöscher, Erste-Hilfe-Kasten, Augenspülflasche, Schutzbrille, NOT-AUS-Schalter, Fluchtwegschild, Löschdecke*

b) Übertrage die folgenden Aufgabenbeschreibungen in die Tabelle und setze in die Lücken jeweils die richtige Bezeichnungen aus a) ein.

Der ... kann Brände löschen.

Die ... kann die Kleidung von Mitschülerinnen und Mitschülern löschen, wenn sie Feuer gefangen hat.








Das ... zeigt den Weg ins Freie.

Die ... schützt meine Augen vor Fremdkörpern (z. B. Flüssigkeiten, Splitter).

Der ... unterbricht alle Strom- und Gasleitungen.

Die ... kann Fremdkörper aus dem Auge auswaschen.

Im ... gibt es Verbandsmaterial für kleinere Verletzungen.

	a) Was ist das?	b) Aufgabenbeschreibung
		
		
		
		
		
		
		

## Sicherheitseinrichtungen (1)

**A1** In einem naturwissenschaftlichen Fachraum gibt es viele Sicherheitseinrichtungen und Schutzausrüstungen.

a) Ordne die folgenden Bezeichnungen den Bildern richtig zu.  
*Feuerlöscher, Erste-Hilfe-Kasten, Augenspülflasche, Schutzbrille, NOT-AUS-Schalter, Fluchtwegschild, Löschdecke*

b) Übertrage die folgenden Aufgabenbeschreibungen in die Tabelle und setze in die Lücken jeweils die richtige Bezeichnungen aus a) ein.

Der ... kann Brände löschen.

Die ... kann die Kleidung von Mitschülerinnen und Mitschülern löschen, wenn sie Feuer gefangen hat.



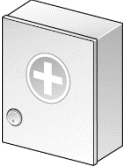




Das ... zeigt den Weg ins Freie.

Die ... schützt meine Augen vor Fremdkörpern (z. B. Flüssigkeiten, Splitter).

Der ... unterbricht alle Strom- und Gasleitungen.

Die ... kann Fremdkörper aus dem Auge auswaschen.

Im ... gibt es Verbandsmaterial für kleinere Verletzungen.

	a) Was ist das?	b) Aufgabenbeschreibung
	<i>NOT-AUS-Schalter</i>	<i>Der NOT-AUS-Schalter unterbricht alle Strom- und Gasleitungen.</i>
	<i>Fluchtwegschild</i>	<i>Das Fluchtwegschild zeigt den Weg ins Freie.</i>
	<i>Erste-Hilfe-Kasten</i>	<i>Im Erste-Hilfe-Kasten gibt es Verbandsmaterial für kleinere Verletzungen.</i>
	<i>Feuerlöscher</i>	<i>Der Feuerlöscher kann Brände löschen.</i>
	<i>Löschdecke</i>	<i>Die Löschdecke kann die Kleidung von Mitschülerinnen und Mitschülern löschen, wenn sie Feuer gefangen hat.</i>
	<i>Augenspülflasche</i>	<i>Die Augenspülflasche kann Fremdkörper aus dem Auge auswaschen.</i>
	<i>Schutzbrille</i>	<i>Die Schutzbrille schützt meine Augen vor Fremdkörpern (z.B. Flüssigkeiten, Splitter).</i>