

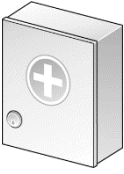






## Sicherheitseinrichtungen (2)

**A1** In einem naturwissenschaftlichen Fachraum gibt es viele Sicherheitseinrichtungen und Schutzausrüstungen. Fülle die folgende Tabelle aus.






	a) Was ist das?	b) Aufgabenbeschreibung
		
		
		
		
		
		
		

**A2** In diesen Fällen droht Gefahr. Trage die entsprechenden Maßnahmen in der freien Spalte der Tabelle ein.

Unfall mit einem Elektrogerät	
Der Pulli deines Mitschülers hat Feuer gefangen.	
Eine Person ist verletzt.	
Der Gasbrenner geht aus.	

## Sicherheitseinrichtungen (2)

**A1** In einem naturwissenschaftlichen Fachraum gibt es viele Sicherheitseinrichtungen und Schutzausrüstungen. Fülle die folgende Tabelle aus.

	a) Was ist das?	b) Aufgabenbeschreibung
	<i>NOT-AUS-Schalter</i>	<i>Der NOT-AUS-Schalter unterbricht alle Strom- und Gaszuleitungen.</i>
	<i>Fluchtwegschild</i>	<i>Das Fluchtwegschild zeigt den Weg ins Freie.</i>
	<i>Erste-Hilfe-Kasten</i>	<i>Im Erste-Hilfe-Kasten gibt es Verbandsmaterial für kleinere Verletzungen.</i>
	<i>Feuerlöscher</i>	<i>Der Feuerlöscher kann Brände löschen.</i>
	<i>Löschdecke</i>	<i>Die Löschdecke kann die Kleidung von Mitschülerinnen und Mitschülern löschen, wenn sie Feuer gefangen hat.</i>
	<i>Augenspülflasche</i>	<i>Die Augenspülflasche kann Fremdkörper aus dem Auge auswaschen.</i>
	<i>Schutzbrille</i>	<i>Die Schutzbrille schützt meine Augen vor Fremdkörpern (z.B. Flüssigkeiten, Splitter).</i>

**A2** In diesen Fällen droht Gefahr. Trage die entsprechenden Maßnahmen in der freien Spalte der Tabelle ein.

Unfall mit einem Elektrogerät	<i>NOT-AUS-Schalter drücken</i>
Der Pulli deines Mitschülers hat Feuer gefangen.	<i>Löschdecke benutzen</i>
Eine Person ist verletzt.	<i>Erste Hilfe leisten; Notruf absetzen</i>
Der Gasbrenner geht aus.	<i>Gaszufuhr unterbrechen</i>